


6. ひっさんでけいさんしよう！

③ つぎの かずを くらいに わけよう！

① **16は** ^{10が} つ




^{1が} つ




② **18は** ^{10が} つ



^{1が} つ



③ **15は** ^{10が} つ



^{1が} つ



④ **19は** ^{10が} つ



^{1が} つ

