

6



ひっさんで けいさんしよう！

がつ にち

れい かずを「くらい」にわけよう！

かずには「10」とか「1」とかの
グループがあるよ。
これを「くらい」っていうんだ



10のグループは「10のくらい」

1のグループは「1のくらい」


っていうよ！



12は
10の くらいが 1
1の くらいが 2
だね！

じゅうに

12



⑩が1つ

①が2つ

「じゅう」
の
くらい

「いち」
の
くらい

1

2

① つぎの かずを くらいに わけよう！

① 12は

10が
 っ

1が
 っ


② 14は

10が
 っ


1が
 っ

② つぎの かずを くらいに わけよう！


① **15は** 10が
 つ




1が
 つ




② **13は** 10が
 つ




1が
 つ




③ **17は** 10が
 つ




1が
 つ



④ **11は** 10が
 つ




1が
 つ




③ つぎの かずを くらいに わけよう！

① **16は** 10が
 つ




1が
 つ




② **18は** 10が
 つ



1が
 つ



③ **15は** 10が
 つ




1が
 つ



④ **19は** 10が
 つ



1が
 つ



6. ひっさんでけいさんしよう！

がつ にち

④ つぎの かずを くらいに わけよう！

① **12は** $\overset{10が}{\square}$ つ $\overset{1が}{\square}$ つ

② **15は** $\overset{10が}{\square}$ つ $\overset{1が}{\square}$ つ

③ **13は** $\overset{10が}{\square}$ つ $\overset{1が}{\square}$ つ

④ **17は** $\overset{10が}{\square}$ つ $\overset{1が}{\square}$ つ

⑤ **19は** $\overset{10が}{\square}$ つ $\overset{1が}{\square}$ つ

⑥ **11は** $\overset{10が}{\square}$ つ $\overset{1が}{\square}$ つ

⑦ **16は** $\overset{10が}{\square}$ つ $\overset{1が}{\square}$ つ

⑧ **14は** $\overset{10が}{\square}$ つ $\overset{1が}{\square}$ つ



⑤ つぎの かずを くらいに わけよう!

① **25は** $\overset{10が}{\square}$ つ $\overset{1が}{\square}$ つ

② **24は** $\overset{10が}{\square}$ つ $\overset{1が}{\square}$ つ

③ **21は** $\overset{10が}{\square}$ つ $\overset{1が}{\square}$ つ

④ **28は** $\overset{10が}{\square}$ つ $\overset{1が}{\square}$ つ

⑤ **29は** $\overset{10が}{\square}$ つ $\overset{1が}{\square}$ つ

⑥ **26は** $\overset{10が}{\square}$ つ $\overset{1が}{\square}$ つ

⑦ **23は** $\overset{10が}{\square}$ つ $\overset{1が}{\square}$ つ

⑧ **27は** $\overset{10が}{\square}$ つ $\overset{1が}{\square}$ つ



⑥ つぎの かずを くらいに わけよう！

① **38は** $\overset{10が}{\square}$ つ $\overset{1が}{\square}$ つ

② **34は** $\overset{10が}{\square}$ つ $\overset{1が}{\square}$ つ

③ **31は** $\overset{10が}{\square}$ つ $\overset{1が}{\square}$ つ

④ **38は** $\overset{10が}{\square}$ つ $\overset{1が}{\square}$ つ

⑤ **37は** $\overset{10が}{\square}$ つ $\overset{1が}{\square}$ つ

⑥ **32は** $\overset{10が}{\square}$ つ $\overset{1が}{\square}$ つ

⑦ **36は** $\overset{10が}{\square}$ つ $\overset{1が}{\square}$ つ

⑧ **33は** $\overset{10が}{\square}$ つ $\overset{1が}{\square}$ つ

⑦ つぎの かずを くらいに わけよう！

① **42は** $\overset{10が}{\square}$ つ $\overset{1が}{\square}$ つ

② **49は** $\overset{10が}{\square}$ つ $\overset{1が}{\square}$ つ

③ **44は** $\overset{10が}{\square}$ つ $\overset{1が}{\square}$ つ

④ **48は** $\overset{10が}{\square}$ つ $\overset{1が}{\square}$ つ

⑤ **41は** $\overset{10が}{\square}$ つ $\overset{1が}{\square}$ つ

⑥ **45は** $\overset{10が}{\square}$ つ $\overset{1が}{\square}$ つ

⑦ **47は** $\overset{10が}{\square}$ つ $\overset{1が}{\square}$ つ

⑧ **43は** $\overset{10が}{\square}$ つ $\overset{1が}{\square}$ つ



⑧ つぎの かずを くらいに わけよう！

① **55は** $\overset{10が}{\square}$ つ $\overset{1が}{\square}$ つ

② **57は** $\overset{10が}{\square}$ つ $\overset{1が}{\square}$ つ

③ **51は** $\overset{10が}{\square}$ つ $\overset{1が}{\square}$ つ

④ **59は** $\overset{10が}{\square}$ つ $\overset{1が}{\square}$ つ

⑤ **52は** $\overset{10が}{\square}$ つ $\overset{1が}{\square}$ つ

⑥ **56は** $\overset{10が}{\square}$ つ $\overset{1が}{\square}$ つ

⑦ **53は** $\overset{10が}{\square}$ つ $\overset{1が}{\square}$ つ

⑧ **58は** $\overset{10が}{\square}$ つ $\overset{1が}{\square}$ つ

⑨ つぎの かずを くらいに わけよう！

① **67は** $\overset{10が}{\square}$ つ $\overset{1が}{\square}$ つ

② **60は** $\overset{10が}{\square}$ つ $\overset{1が}{\square}$ つ

③ **62は** $\overset{10が}{\square}$ つ $\overset{1が}{\square}$ つ

④ **63は** $\overset{10が}{\square}$ つ $\overset{1が}{\square}$ つ

⑤ **64は** $\overset{10が}{\square}$ つ $\overset{1が}{\square}$ つ

⑥ **61は** $\overset{10が}{\square}$ つ $\overset{1が}{\square}$ つ

⑦ **65は** $\overset{10が}{\square}$ つ $\overset{1が}{\square}$ つ

⑧ **69は** $\overset{10が}{\square}$ つ $\overset{1が}{\square}$ つ



⑩ つぎの かずを くらいに わけよう!

① **77は** $\overset{10が}{\square}$ つ $\overset{1が}{\square}$ つ

② **71は** $\overset{10が}{\square}$ つ $\overset{1が}{\square}$ つ

③ **76は** $\overset{10が}{\square}$ つ $\overset{1が}{\square}$ つ

④ **72は** $\overset{10が}{\square}$ つ $\overset{1が}{\square}$ つ

⑤ **75は** $\overset{10が}{\square}$ つ $\overset{1が}{\square}$ つ

⑥ **79は** $\overset{10が}{\square}$ つ $\overset{1が}{\square}$ つ

⑦ **74は** $\overset{10が}{\square}$ つ $\overset{1が}{\square}$ つ

⑧ **73は** $\overset{10が}{\square}$ つ $\overset{1が}{\square}$ つ

11 つぎの かずを くらいに わけよう！

① 85は $\begin{matrix} 10が \\ \square \\ \text{っ} \end{matrix}$ $\begin{matrix} 1が \\ \square \\ \text{っ} \end{matrix}$

② 88は $\begin{matrix} 10が \\ \square \\ \text{っ} \end{matrix}$ $\begin{matrix} 1が \\ \square \\ \text{っ} \end{matrix}$

③ 80は $\begin{matrix} 10が \\ \square \\ \text{っ} \end{matrix}$ $\begin{matrix} 1が \\ \square \\ \text{っ} \end{matrix}$

④ 81は $\begin{matrix} 10が \\ \square \\ \text{っ} \end{matrix}$ $\begin{matrix} 1が \\ \square \\ \text{っ} \end{matrix}$

⑤ 86は $\begin{matrix} 10が \\ \square \\ \text{っ} \end{matrix}$ $\begin{matrix} 1が \\ \square \\ \text{っ} \end{matrix}$

⑥ 89は $\begin{matrix} 10が \\ \square \\ \text{っ} \end{matrix}$ $\begin{matrix} 1が \\ \square \\ \text{っ} \end{matrix}$

⑦ 82は $\begin{matrix} 10が \\ \square \\ \text{っ} \end{matrix}$ $\begin{matrix} 1が \\ \square \\ \text{っ} \end{matrix}$

⑧ 84は $\begin{matrix} 10が \\ \square \\ \text{っ} \end{matrix}$ $\begin{matrix} 1が \\ \square \\ \text{っ} \end{matrix}$



12 つぎの かずを くらいに わけよう!

① 91は $\begin{matrix} 10が \\ \square \\ \text{っ} \end{matrix}$ $\begin{matrix} 1が \\ \square \\ \text{っ} \end{matrix}$

② 99は $\begin{matrix} 10が \\ \square \\ \text{っ} \end{matrix}$ $\begin{matrix} 1が \\ \square \\ \text{っ} \end{matrix}$

③ 93は $\begin{matrix} 10が \\ \square \\ \text{っ} \end{matrix}$ $\begin{matrix} 1が \\ \square \\ \text{っ} \end{matrix}$

④ 96は $\begin{matrix} 10が \\ \square \\ \text{っ} \end{matrix}$ $\begin{matrix} 1が \\ \square \\ \text{っ} \end{matrix}$

⑤ 95は $\begin{matrix} 10が \\ \square \\ \text{っ} \end{matrix}$ $\begin{matrix} 1が \\ \square \\ \text{っ} \end{matrix}$

⑥ 90は $\begin{matrix} 10が \\ \square \\ \text{っ} \end{matrix}$ $\begin{matrix} 1が \\ \square \\ \text{っ} \end{matrix}$

⑦ 97は $\begin{matrix} 10が \\ \square \\ \text{っ} \end{matrix}$ $\begin{matrix} 1が \\ \square \\ \text{っ} \end{matrix}$

⑧ 94は $\begin{matrix} 10が \\ \square \\ \text{っ} \end{matrix}$ $\begin{matrix} 1が \\ \square \\ \text{っ} \end{matrix}$

13 つぎの かずを くらいに わけよう！

① 14は $\begin{matrix} 10が \\ \square \\ \text{っ} \end{matrix}$ $\begin{matrix} 1が \\ \square \\ \text{っ} \end{matrix}$

② 28は $\begin{matrix} 10が \\ \square \\ \text{っ} \end{matrix}$ $\begin{matrix} 1が \\ \square \\ \text{っ} \end{matrix}$

③ 35は $\begin{matrix} 10が \\ \square \\ \text{っ} \end{matrix}$ $\begin{matrix} 1が \\ \square \\ \text{っ} \end{matrix}$

④ 47は $\begin{matrix} 10が \\ \square \\ \text{っ} \end{matrix}$ $\begin{matrix} 1が \\ \square \\ \text{っ} \end{matrix}$

⑤ 56は $\begin{matrix} 10が \\ \square \\ \text{っ} \end{matrix}$ $\begin{matrix} 1が \\ \square \\ \text{っ} \end{matrix}$

⑥ 61は $\begin{matrix} 10が \\ \square \\ \text{っ} \end{matrix}$ $\begin{matrix} 1が \\ \square \\ \text{っ} \end{matrix}$

⑦ 70は $\begin{matrix} 10が \\ \square \\ \text{っ} \end{matrix}$ $\begin{matrix} 1が \\ \square \\ \text{っ} \end{matrix}$

⑧ 89は $\begin{matrix} 10が \\ \square \\ \text{っ} \end{matrix}$ $\begin{matrix} 1が \\ \square \\ \text{っ} \end{matrix}$



⑭ つぎの かずを くらいに わけよう！

① **38は** $\overset{10が}{\square}$ つ $\overset{1が}{\square}$ つ

② **61は** $\overset{10が}{\square}$ つ $\overset{1が}{\square}$ つ

③ **82は** $\overset{10が}{\square}$ つ $\overset{1が}{\square}$ つ

④ **76は** $\overset{10が}{\square}$ つ $\overset{1が}{\square}$ つ

⑤ **43は** $\overset{10が}{\square}$ つ $\overset{1が}{\square}$ つ

⑥ **94は** $\overset{10が}{\square}$ つ $\overset{1が}{\square}$ つ

⑦ **15は** $\overset{10が}{\square}$ つ $\overset{1が}{\square}$ つ

⑧ **55は** $\overset{10が}{\square}$ つ $\overset{1が}{\square}$ つ

15 つぎの かずを くらいに わけよう!

① **71は** $\overset{10が}{\square}$ つ $\overset{1が}{\square}$ つ

② **99は** $\overset{10が}{\square}$ つ $\overset{1が}{\square}$ つ

③ **52は** $\overset{10が}{\square}$ つ $\overset{1が}{\square}$ つ

④ **67は** $\overset{10が}{\square}$ つ $\overset{1が}{\square}$ つ

⑤ **83は** $\overset{10が}{\square}$ つ $\overset{1が}{\square}$ つ

⑥ **45は** $\overset{10が}{\square}$ つ $\overset{1が}{\square}$ つ

⑦ **30は** $\overset{10が}{\square}$ つ $\overset{1が}{\square}$ つ

⑧ **14は** $\overset{10が}{\square}$ つ $\overset{1が}{\square}$ つ



16 つぎの かずを くらいに わけよう！

① **22は** $\overset{10が}{\square}$ つ $\overset{1が}{\square}$ つ

② **71は** $\overset{10が}{\square}$ つ $\overset{1が}{\square}$ つ

③ **93は** $\overset{10が}{\square}$ つ $\overset{1が}{\square}$ つ

④ **48は** $\overset{10が}{\square}$ つ $\overset{1が}{\square}$ つ

⑤ **91は** $\overset{10が}{\square}$ つ $\overset{1が}{\square}$ つ

⑥ **40は** $\overset{10が}{\square}$ つ $\overset{1が}{\square}$ つ

⑦ **65は** $\overset{10が}{\square}$ つ $\overset{1が}{\square}$ つ

⑧ **24は** $\overset{10が}{\square}$ つ $\overset{1が}{\square}$ つ

17 つぎの かずを くらいに わけよう！

① 18は $\begin{matrix} 10が \\ \square \\ \text{っ} \end{matrix}$ $\begin{matrix} 1が \\ \square \\ \text{っ} \end{matrix}$

② 29は $\begin{matrix} 10が \\ \square \\ \text{っ} \end{matrix}$ $\begin{matrix} 1が \\ \square \\ \text{っ} \end{matrix}$

③ 61は $\begin{matrix} 10が \\ \square \\ \text{っ} \end{matrix}$ $\begin{matrix} 1が \\ \square \\ \text{っ} \end{matrix}$

④ 82は $\begin{matrix} 10が \\ \square \\ \text{っ} \end{matrix}$ $\begin{matrix} 1が \\ \square \\ \text{っ} \end{matrix}$

⑤ 76は $\begin{matrix} 10が \\ \square \\ \text{っ} \end{matrix}$ $\begin{matrix} 1が \\ \square \\ \text{っ} \end{matrix}$

⑥ 25は $\begin{matrix} 10が \\ \square \\ \text{っ} \end{matrix}$ $\begin{matrix} 1が \\ \square \\ \text{っ} \end{matrix}$

⑦ 39は $\begin{matrix} 10が \\ \square \\ \text{っ} \end{matrix}$ $\begin{matrix} 1が \\ \square \\ \text{っ} \end{matrix}$

⑧ 50は $\begin{matrix} 10が \\ \square \\ \text{っ} \end{matrix}$ $\begin{matrix} 1が \\ \square \\ \text{っ} \end{matrix}$



18 つぎの かずを くらいに わけよう！

① 18は

⑨ 22は

② 29は

⑩ 71は

③ 61は

⑪ 93は

④ 82は

⑫ 48は

⑤ 76は

⑬ 91は

⑥ 25は

⑭ 40は

⑦ 39は

⑮ 65は

⑧ 50は

⑯ 24は

19 つぎの かずを くらいに わけよう！

① 71は $\begin{matrix} \text{じゅう} \\ \square \end{matrix}$ $\begin{matrix} \text{いち} \\ \square \end{matrix}$

⑨ 38は $\begin{matrix} \text{じゅう} \\ \square \end{matrix}$ $\begin{matrix} \text{いち} \\ \square \end{matrix}$

② 99は $\begin{matrix} \text{じゅう} \\ \square \end{matrix}$ $\begin{matrix} \text{いち} \\ \square \end{matrix}$

⑩ 61は $\begin{matrix} \text{じゅう} \\ \square \end{matrix}$ $\begin{matrix} \text{いち} \\ \square \end{matrix}$

③ 52は $\begin{matrix} \text{じゅう} \\ \square \end{matrix}$ $\begin{matrix} \text{いち} \\ \square \end{matrix}$

⑪ 82は $\begin{matrix} \text{じゅう} \\ \square \end{matrix}$ $\begin{matrix} \text{いち} \\ \square \end{matrix}$

④ 67は $\begin{matrix} \text{じゅう} \\ \square \end{matrix}$ $\begin{matrix} \text{いち} \\ \square \end{matrix}$

⑫ 76は $\begin{matrix} \text{じゅう} \\ \square \end{matrix}$ $\begin{matrix} \text{いち} \\ \square \end{matrix}$

⑤ 83は $\begin{matrix} \text{じゅう} \\ \square \end{matrix}$ $\begin{matrix} \text{いち} \\ \square \end{matrix}$

⑬ 43は $\begin{matrix} \text{じゅう} \\ \square \end{matrix}$ $\begin{matrix} \text{いち} \\ \square \end{matrix}$

⑥ 45は $\begin{matrix} \text{じゅう} \\ \square \end{matrix}$ $\begin{matrix} \text{いち} \\ \square \end{matrix}$

⑭ 94は $\begin{matrix} \text{じゅう} \\ \square \end{matrix}$ $\begin{matrix} \text{いち} \\ \square \end{matrix}$

⑦ 30は $\begin{matrix} \text{じゅう} \\ \square \end{matrix}$ $\begin{matrix} \text{いち} \\ \square \end{matrix}$

⑮ 15は $\begin{matrix} \text{じゅう} \\ \square \end{matrix}$ $\begin{matrix} \text{いち} \\ \square \end{matrix}$

⑧ 14は $\begin{matrix} \text{じゅう} \\ \square \end{matrix}$ $\begin{matrix} \text{いち} \\ \square \end{matrix}$

⑯ 55は $\begin{matrix} \text{じゅう} \\ \square \end{matrix}$ $\begin{matrix} \text{いち} \\ \square \end{matrix}$

じぶんで「けいさんき」をつくっちゃおう!

① $12 + 7 = ?$



①かずを「くらい」に
あわせてかこう!

	じゅう	いち
	<input type="text"/>	<input type="text"/>
+		<input type="text"/>
<hr/>		

※「じゅう」と「いち」を
そろえてかこう!

②かずを「たて」に
けいさんしよう!

	じゅう	いち
	<input type="text"/>	<input type="text"/>
+	<input type="text"/>	<input type="text"/>
<hr/>		
こたえ	① <input type="text"/>	② <input type="text"/>
	1+0	2+7



この「けいさんき」は『ひっさん』っていうよ!

6. ひっさんでけいさんしよう!

がつ にち

⑳ ひっさんでたしざんをしよう!

① $12 + 7 = \square$

	じゅう	いち
	<input type="text"/>	<input type="text"/>
+		<input type="text"/>
<hr/>		
たえ	<input type="text"/>	<input type="text"/>

② $15 + 3 = \square$

	じゅう	いち
	<input type="text"/>	<input type="text"/>
+		<input type="text"/>
<hr/>		
たえ	<input type="text"/>	<input type="text"/>

③ $14 + 2 = \square$

	じゅう	いち
	<input type="text"/>	<input type="text"/>
+		<input type="text"/>
<hr/>		
たえ	<input type="text"/>	<input type="text"/>



6. ひっさんでけいさんしよう!

がつ にち

②① ひっさんでたしざんをしよう!

① $22 + 7 = \square$

	じゅう	いち
	<input type="text"/>	<input type="text"/>
+		<input type="text"/>
<hr/>		
たえ	<input type="text"/>	<input type="text"/>

② $25 + 4 = \square$

	じゅう	いち
	<input type="text"/>	<input type="text"/>
+		<input type="text"/>
<hr/>		
たえ	<input type="text"/>	<input type="text"/>

③ $34 + 1 = \square$

	じゅう	いち
	<input type="text"/>	<input type="text"/>
+		<input type="text"/>
<hr/>		
たえ	<input type="text"/>	<input type="text"/>

6. ひっさんでけいさんしよう!

がつ にち

②② ひっさんでたしざんをしよう!

① $25 + 12 = \square$


	じゅう	いち
	<input type="text"/>	<input type="text"/>
+	<input type="text"/>	<input type="text"/>
<hr/>		
たえ	<input type="text"/>	<input type="text"/>

② $38 + 21 = \square$

	じゅう	いち
	<input type="text"/>	<input type="text"/>
+	<input type="text"/>	<input type="text"/>
<hr/>		
たえ	<input type="text"/>	<input type="text"/>

③ $47 + 32 = \square$

	じゅう	いち
	<input type="text"/>	<input type="text"/>
+	<input type="text"/>	<input type="text"/>
<hr/>		
たえ	<input type="text"/>	<input type="text"/>



6. ひっさんでけいさんしよう!

がつ にち

②③ ひっさんでたしざんをしよう!

① $41 + 25 = \square$

	じゅう	いち
	<input type="text"/>	<input type="text"/>
+	<input type="text"/>	<input type="text"/>
<hr/>		
たえ	<input type="text"/>	<input type="text"/>

② $71 + 15 = \square$

	じゅう	いち
	<input type="text"/>	<input type="text"/>
+	<input type="text"/>	<input type="text"/>
<hr/>		
たえ	<input type="text"/>	<input type="text"/>

③ $33 + 42 = \square$

	じゅう	いち
	<input type="text"/>	<input type="text"/>
+	<input type="text"/>	<input type="text"/>
<hr/>		
たえ	<input type="text"/>	<input type="text"/>

6. ひっさんでけいさんしよう!

がつ にち

②④ ひっさんでたしざんをしよう!

① $50 + 22 = \square$

	じゅう	いち
	<input type="text"/>	<input type="text"/>
+	<input type="text"/>	<input type="text"/>
<hr/>		
こたえ	<input type="text"/>	<input type="text"/>

② $25 + 60 = \square$

	じゅう	いち
	<input type="text"/>	<input type="text"/>
+	<input type="text"/>	<input type="text"/>
<hr/>		
こたえ	<input type="text"/>	<input type="text"/>

③ $41 + 42 = \square$

	じゅう	いち
	<input type="text"/>	<input type="text"/>
+	<input type="text"/>	<input type="text"/>
<hr/>		
こたえ	<input type="text"/>	<input type="text"/>

6. ひっさんでけいさんしよう!

がつ にち

②⑤ ひっさんでたしざんをしよう!

① $15 + 3 =$

	じゅう	いち
	<input type="text"/>	<input type="text"/>
+		<input type="text"/>
<hr/>		
たえ	<input type="text"/>	<input type="text"/>

② $12 + 23 =$

	じゅう	いち
	<input type="text"/>	<input type="text"/>
+	<input type="text"/>	<input type="text"/>
<hr/>		
たえ	<input type="text"/>	<input type="text"/>

③ $41 + 5 =$

	じゅう	いち
	<input type="text"/>	<input type="text"/>
+		<input type="text"/>
<hr/>		
たえ	<input type="text"/>	<input type="text"/>



6. ひっさんでけいさんしよう!

がつ にち

②⑥ ひっさんでたしざんをしよう!

① $30 + 50 = \square$

	じゅう	いち
	<input type="text"/>	<input type="text"/>
+	<input type="text"/>	<input type="text"/>
<hr/>		
たえ	<input type="text"/>	<input type="text"/>

② $40 + 8 = \square$

	じゅう	いち
	<input type="text"/>	<input type="text"/>
+		<input type="text"/>
<hr/>		
たえ	<input type="text"/>	<input type="text"/>

③ $10 + 9 = \square$

	じゅう	いち
	<input type="text"/>	<input type="text"/>
+		<input type="text"/>
<hr/>		
たえ	<input type="text"/>	<input type="text"/>

ひっさんで「くりあがり」をけいさんしよう!

れい $14 + 27 = ?$

① ひっさんをつくらう!

	じゅう	いち
	<input type="text"/>	<input type="text"/>
+	<input type="text"/>	<input type="text"/>
<hr/>		

② 「4+7=11」だから「10のくらい」に「1」をわたそう!

	じゅう	いち
	1	4
+	2	7
<hr/>		
こたえ	<input type="text"/>	1
	1+2+1	4+7

こたえが「10のくらい」になったら「じゅう」のところにかこうね!



27 ひっさんでたしざんをしよう!

$14 + 27 = \square$

	じゅう	いち
	<input type="text"/>	<input type="text"/>
+	<input type="text"/>	<input type="text"/>
<hr/>		
こたえ	<input type="text"/>	<input type="text"/>

6. ひっさんでけいさんしよう!

がつ にち

②⑧ ひっさんでたしざんをしよう!

① $32 + 9 = \square$

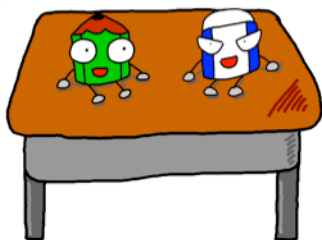
	じゅう	いち
	<input type="text"/>	<input type="text"/>
+		<input type="text"/>
<hr/>		
こたえ	<input type="text"/>	<input type="text"/>

② $45 + 8 = \square$

	じゅう	いち
	<input type="text"/>	<input type="text"/>
+		<input type="text"/>
<hr/>		
こたえ	<input type="text"/>	<input type="text"/>

③ $13 + 9 = \square$

	じゅう	いち
	<input type="text"/>	<input type="text"/>
+		<input type="text"/>
<hr/>		
こたえ	<input type="text"/>	<input type="text"/>



6. ひっさんでけいさんしよう!

②⑨ ひっさんでたしざんをしよう!

① $45 + 7 = \square$

	じゅう	いち
	<input type="text"/>	<input type="text"/>
+		<input type="text"/>
<hr/>		
こたえ	<input type="text"/>	<input type="text"/>

② $38 + 8 = \square$

	じゅう	いち
	<input type="text"/>	<input type="text"/>
+		<input type="text"/>
<hr/>		
こたえ	<input type="text"/>	<input type="text"/>

③ $36 + 9 = \square$

	じゅう	いち
	<input type="text"/>	<input type="text"/>
+		<input type="text"/>
<hr/>		
こたえ	<input type="text"/>	<input type="text"/>

6. ひっさんでけいさんしよう!

がつ にち

③⑩ ひっさんでたしざんをしよう!

① $52 + 9 = \square$

	じゅう	いち
	<input type="text"/>	<input type="text"/>
+		<input type="text"/>
<hr/>		
こたえ	<input type="text"/>	<input type="text"/>

② $43 + 8 = \square$

	じゅう	いち
	<input type="text"/>	<input type="text"/>
+		<input type="text"/>
<hr/>		
こたえ	<input type="text"/>	<input type="text"/>

③ $19 + 5 = \square$

	じゅう	いち
	<input type="text"/>	<input type="text"/>
+		<input type="text"/>
<hr/>		
こたえ	<input type="text"/>	<input type="text"/>

6. ひっさんでけいさんしよう!

がつ にち

③① ひっさんでたしざんをしよう!

① $14 + 19 = \square$

	じゅう	いち
	<input type="text"/>	<input type="text"/>
+	<input type="text"/>	<input type="text"/>
<hr/>		
こたえ	<input type="text"/>	<input type="text"/>

② $13 + 18 = \square$

	じゅう	いち
	<input type="text"/>	<input type="text"/>
+	<input type="text"/>	<input type="text"/>
<hr/>		
こたえ	<input type="text"/>	<input type="text"/>

③ $19 + 15 = \square$

	じゅう	いち
	<input type="text"/>	<input type="text"/>
+	<input type="text"/>	<input type="text"/>
<hr/>		
こたえ	<input type="text"/>	<input type="text"/>



6. ひっさんでけいさんしよう!

がつ にち

③② ひっさんでたしざんをしよう!

① $23 + 19 = \square$

	じゅう	いち
	<input type="text"/>	<input type="text"/>
+	<input type="text"/>	<input type="text"/>
<hr/>		<input type="text"/>
こたえ	<input type="text"/>	<input type="text"/>

② $32 + 19 = \square$

	じゅう	いち
	<input type="text"/>	<input type="text"/>
+	<input type="text"/>	<input type="text"/>
<hr/>		<input type="text"/>
こたえ	<input type="text"/>	<input type="text"/>

③ $29 + 15 = \square$

	じゅう	いち
	<input type="text"/>	<input type="text"/>
+	<input type="text"/>	<input type="text"/>
<hr/>		<input type="text"/>
こたえ	<input type="text"/>	<input type="text"/>



6. ひっさんでけいさんしよう!

がつ にち

③③ ひっさんでたしざんをしよう!

① $35 + 49 = \square$

	じゅう	いち
	<input type="text"/>	<input type="text"/>
+	<input type="text"/>	<input type="text"/>
<hr/>		<input type="text"/>
こたえ	<input type="text"/>	<input type="text"/>

② $24 + 39 = \square$

	じゅう	いち
	<input type="text"/>	<input type="text"/>
+	<input type="text"/>	<input type="text"/>
<hr/>		<input type="text"/>
こたえ	<input type="text"/>	<input type="text"/>

③ $45 + 16 = \square$

	じゅう	いち
	<input type="text"/>	<input type="text"/>
+	<input type="text"/>	<input type="text"/>
<hr/>		<input type="text"/>
こたえ	<input type="text"/>	<input type="text"/>

6. ひっさんでけいさんしよう!

がつ にち

③④ ひっさんでたしざんをしよう!

① $27 + 29 = \square$

	じゅう	いち
	<input type="text"/>	<input type="text"/>
+	<input type="text"/>	<input type="text"/>
<hr/>		<input type="text"/>
こたえ	<input type="text"/>	<input type="text"/>

② $14 + 69 = \square$

	じゅう	いち
	<input type="text"/>	<input type="text"/>
+	<input type="text"/>	<input type="text"/>
<hr/>		<input type="text"/>
こたえ	<input type="text"/>	<input type="text"/>

③ $45 + 26 = \square$

	じゅう	いち
	<input type="text"/>	<input type="text"/>
+	<input type="text"/>	<input type="text"/>
<hr/>		<input type="text"/>
こたえ	<input type="text"/>	<input type="text"/>

ひっさんでひきざんをしよう!

① $25 - 12 = ?$



おおきいかずの
ひきざんだ!
できるかなあ?



だいじょうぶ!
ひっさんをつかえば
かんたんだよ!

①かずを「たて」に
ならべてかこう!

	じゅう	いち
	<input type="text"/>	<input type="text"/>
—	<input type="text"/>	<input type="text"/>
<hr/>		

※「くらい」を
あわせてかこう!

②かずを「たて」に
けいさんしよう!

	じゅう	いち
	<input type="text" value="2"/>	<input type="text" value="5"/>
—	<input type="text" value="1"/>	<input type="text" value="2"/>
<hr/>		
こたえ	① <input type="text"/>	② <input type="text"/>
	2-1	5-2



『ひっさん』をつかえば おおきいかずも
かんたんにけいさんできるよ!

6. ひっさんでけいさんしよう!

がつ にち

③⑤ ひっさんでひきざんをしよう!

① $18 - 7 = \square$

	じゅう	いち
	<input type="text"/>	<input type="text"/>
—		<input type="text"/>
答え	<input type="text"/>	<input type="text"/>

② $15 - 3 = \square$

	じゅう	いち
	<input type="text"/>	<input type="text"/>
—		<input type="text"/>
答え	<input type="text"/>	<input type="text"/>

③ $14 - 2 = \square$

	じゅう	いち
	<input type="text"/>	<input type="text"/>
—		<input type="text"/>
答え	<input type="text"/>	<input type="text"/>



6. ひっさんでけいさんしよう!

がつ にち

③⑥ ひっさんでひきざんをしよう!

① $38 - 21 = \square$

	じゅう	いち
	<input type="text"/>	<input type="text"/>
—	<input type="text"/>	<input type="text"/>
答え	<input type="text"/>	<input type="text"/>

② $25 - 13 = \square$

	じゅう	いち
	<input type="text"/>	<input type="text"/>
—	<input type="text"/>	<input type="text"/>
答え	<input type="text"/>	<input type="text"/>

③ $44 - 22 = \square$

	じゅう	いち
	<input type="text"/>	<input type="text"/>
—	<input type="text"/>	<input type="text"/>
答え	<input type="text"/>	<input type="text"/>



6. ひっさんでけいさんしよう!

がつ にち

③⑦ ひっさんでひきざんをしよう!

① $69 - 35 = \square$

	じゅう	いち
	<input type="text"/>	<input type="text"/>
—	<input type="text"/>	<input type="text"/>
答え	<input type="text"/>	<input type="text"/>

② $35 - 23 = \square$

	じゅう	いち
	<input type="text"/>	<input type="text"/>
—	<input type="text"/>	<input type="text"/>
答え	<input type="text"/>	<input type="text"/>

③ $76 - 42 = \square$

	じゅう	いち
	<input type="text"/>	<input type="text"/>
—	<input type="text"/>	<input type="text"/>
答え	<input type="text"/>	<input type="text"/>

6. ひっさんでけいさんしよう!

がつ にち

③⑧ ひっさんでひきざんをしよう!

① $85 - 41 = \square$

	じゅう	いち
	<input type="text"/>	<input type="text"/>
—	<input type="text"/>	<input type="text"/>
答え	<input type="text"/>	<input type="text"/>

② $82 - 71 = \square$

	じゅう	いち
	<input type="text"/>	<input type="text"/>
—	<input type="text"/>	<input type="text"/>
答え	<input type="text"/>	<input type="text"/>

③ $99 - 98 = \square$

	じゅう	いち
	<input type="text"/>	<input type="text"/>
—	<input type="text"/>	<input type="text"/>
答え	<input type="text"/>	<input type="text"/>

6. ひっさんでけいさんしよう!

がつ にち

③⑨ ひっさんでひきざんをしよう!

① $39 - 20 = \square$

	じゅう	いち
	<input type="text"/>	<input type="text"/>
—	<input type="text"/>	<input type="text"/>
こたえ	<input type="text"/>	<input type="text"/>

② $60 - 50 = \square$

	じゅう	いち
	<input type="text"/>	<input type="text"/>
—	<input type="text"/>	<input type="text"/>
こたえ	<input type="text"/>	<input type="text"/>

③ $45 - 30 = \square$

	じゅう	いち
	<input type="text"/>	<input type="text"/>
—	<input type="text"/>	<input type="text"/>
こたえ	<input type="text"/>	<input type="text"/>



6. ひっさんでけいさんしよう!

がつ にち

④⑩ ひっさんでひきざんをしよう!

$$\textcircled{1} 90 - 20 = \square$$

	じゅう	いち
	<input type="text"/>	<input type="text"/>
—	<input type="text"/>	<input type="text"/>
答え	<input type="text"/>	<input type="text"/>

$$\textcircled{2} 85 - 75 = \square$$

	じゅう	いち
	<input type="text"/>	<input type="text"/>
—	<input type="text"/>	<input type="text"/>
答え	<input type="text"/>	<input type="text"/>

$$\textcircled{3} 41 - 30 = \square$$

	じゅう	いち
	<input type="text"/>	<input type="text"/>
—	<input type="text"/>	<input type="text"/>
答え	<input type="text"/>	<input type="text"/>

6. ひっさんでけいさんしよう!

がつ にち

④① ひっさんでひきざんをしよう!

① $25 - 23 = \square$

	じゅう	いち
	<input type="text"/>	<input type="text"/>
—	<input type="text"/>	<input type="text"/>
答え	<input type="text"/>	<input type="text"/>

② $92 - 90 = \square$

	じゅう	いち
	<input type="text"/>	<input type="text"/>
—	<input type="text"/>	<input type="text"/>
答え	<input type="text"/>	<input type="text"/>

③ $62 - 60 = \square$

	じゅう	いち
	<input type="text"/>	<input type="text"/>
—	<input type="text"/>	<input type="text"/>
答え	<input type="text"/>	<input type="text"/>



ひっさんで「くりさがり」をけいさんしよう!

れい $42 - 27 = ?$

① ひっさんをつくらう!

	じゅう	いち
	<input type="text"/>	<input type="text"/>
-	<input type="text"/>	<input type="text"/>
<hr/>		

② 「 $2-7=$ できない」から
「10のくらい」から
「10」をかりてこよう!

	じゅう	いち
	4 3	2
-	2	7
<hr/>		
	① <input type="text"/>	② <input type="text"/>
	3-2	12-7

⑩をかりてきてひきざんをするんだ!



④2 ひっさんでひきざんをしよう!

$42 - 27 = \square$

	じゅう	いち
	<input type="text"/>	<input type="text"/>
		10
-	<input type="text"/>	<input type="text"/>
<hr/>		
	① <input type="text"/>	② <input type="text"/>
	3-2	12-7

6. ひっさんでけいさんしよう!

④③ ひっさんでひきざんをしよう!

① $32 - 9 = \square$

	じゅう	いち
	<input type="text"/>	<input type="text"/>
		10
—		<input type="text"/>
<hr/>		
たえ	<input type="text"/>	<input type="text"/>

② $45 - 8 = \square$

	じゅう	いち
	<input type="text"/>	<input type="text"/>
		10
—		<input type="text"/>
<hr/>		
たえ	<input type="text"/>	<input type="text"/>

③ $13 - 9 = \square$

	じゅう	いち
	<input type="text"/>	<input type="text"/>
		10
—		<input type="text"/>
<hr/>		
たえ	<input type="text"/>	<input type="text"/>

6. ひっさんでけいさんしよう!

がつ にち

④④ ひっさんでひきざんをしよう!

① $15 - 7 = \square$

	じゅう	いち
	<input type="text"/>	<input type="text"/>
		<input type="text"/>
—		<input type="text"/>
<hr/>		
たえ	<input type="text"/>	<input type="text"/>

② $32 - 6 = \square$

	じゅう	いち
	<input type="text"/>	<input type="text"/>
		<input type="text"/>
—		<input type="text"/>
<hr/>		
たえ	<input type="text"/>	<input type="text"/>

③ $71 - 3 = \square$

	じゅう	いち
	<input type="text"/>	<input type="text"/>
		<input type="text"/>
—		<input type="text"/>
<hr/>		
たえ	<input type="text"/>	<input type="text"/>



6. ひっさんでけいさんしよう!

④⑤ ひっさんでひきざんをしよう!

① $25 - 17 = \square$

	じゅう	いち
	<input type="text"/>	<input type="text"/>
	<input type="text"/>	<input type="text"/>
—	<input type="text"/>	<input type="text"/>
答え	<input type="text"/>	<input type="text"/>

② $32 - 16 = \square$

	じゅう	いち
	<input type="text"/>	<input type="text"/>
	<input type="text"/>	<input type="text"/>
—	<input type="text"/>	<input type="text"/>
答え	<input type="text"/>	<input type="text"/>

③ $33 - 19 = \square$

	じゅう	いち
	<input type="text"/>	<input type="text"/>
	<input type="text"/>	<input type="text"/>
—	<input type="text"/>	<input type="text"/>
答え	<input type="text"/>	<input type="text"/>

6. ひっさんでけいさんしよう!

がつ にち

④⑥ ひっさんでひきざんをしよう!

① $81 - 37 = \square$

	じゅう	いち
	<input type="text"/>	<input type="text"/>
	<input type="text"/>	<input type="text"/>
—	<input type="text"/>	<input type="text"/>
答え	<input type="text"/>	<input type="text"/>

② $42 - 25 = \square$

	じゅう	いち
	<input type="text"/>	<input type="text"/>
	<input type="text"/>	<input type="text"/>
—	<input type="text"/>	<input type="text"/>
答え	<input type="text"/>	<input type="text"/>

③ $75 - 47 = \square$

	じゅう	いち
	<input type="text"/>	<input type="text"/>
	<input type="text"/>	<input type="text"/>
—	<input type="text"/>	<input type="text"/>
答え	<input type="text"/>	<input type="text"/>



6. ひっさんでけいさんしよう!

がつ にち

④7 ひっさんでひきざんをしよう!

① $67 - 39 = \square$

	じゅう	いち
	<input type="text"/>	<input type="text"/>
	<input type="text"/>	<input type="text"/>
—	<input type="text"/>	<input type="text"/>
—	<input type="text"/>	<input type="text"/>
答え	<input type="text"/>	<input type="text"/>

② $98 - 79 = \square$

	じゅう	いち
	<input type="text"/>	<input type="text"/>
	<input type="text"/>	<input type="text"/>
—	<input type="text"/>	<input type="text"/>
—	<input type="text"/>	<input type="text"/>
答え	<input type="text"/>	<input type="text"/>

③ $53 - 25 = \square$

	じゅう	いち
	<input type="text"/>	<input type="text"/>
	<input type="text"/>	<input type="text"/>
—	<input type="text"/>	<input type="text"/>
—	<input type="text"/>	<input type="text"/>
答え	<input type="text"/>	<input type="text"/>

6. ひっさんでけいさんしよう!

④8 ひっさんでひきざんをしよう!

① $75 - 47 = \square$

	じゅう	いち
	<input type="text"/>	<input type="text"/>
	<input type="text"/>	<input type="text"/>
—	<input type="text"/>	<input type="text"/>
答え	<input type="text"/>	<input type="text"/>

② $61 - 27 = \square$

	じゅう	いち
	<input type="text"/>	<input type="text"/>
	<input type="text"/>	<input type="text"/>
—	<input type="text"/>	<input type="text"/>
答え	<input type="text"/>	<input type="text"/>

③ $52 - 25 = \square$

	じゅう	いち
	<input type="text"/>	<input type="text"/>
	<input type="text"/>	<input type="text"/>
—	<input type="text"/>	<input type="text"/>
答え	<input type="text"/>	<input type="text"/>

6. ひっさんでけいさんしよう!

がつ にち

④9 ひっさんでひきざんをしよう!

① $46 - 26 = \square$

	じゅう	いち
	<input type="text"/>	<input type="text"/>
	<input type="text"/>	<input type="text"/>
—	<input type="text"/>	<input type="text"/>
—	<input type="text"/>	<input type="text"/>
答え	<input type="text"/>	<input type="text"/>

② $90 - 27 = \square$

	じゅう	いち
	<input type="text"/>	<input type="text"/>
	<input type="text"/>	<input type="text"/>
—	<input type="text"/>	<input type="text"/>
—	<input type="text"/>	<input type="text"/>
答え	<input type="text"/>	<input type="text"/>

③ $50 - 25 = \square$

	じゅう	いち
	<input type="text"/>	<input type="text"/>
	<input type="text"/>	<input type="text"/>
—	<input type="text"/>	<input type="text"/>
—	<input type="text"/>	<input type="text"/>
答え	<input type="text"/>	<input type="text"/>

6. ひっさんでけいさんしよう!

⑤⑩ ひっさんでひきざんをしよう!

① $75 - 26 = \square$

	じゅう	いち
	<input type="text"/>	<input type="text"/>
	<input type="text"/>	<input type="text"/>
—	<input type="text"/>	<input type="text"/>
答え	<input type="text"/>	<input type="text"/>

② $54 - 29 = \square$

	じゅう	いち
	<input type="text"/>	<input type="text"/>
	<input type="text"/>	<input type="text"/>
—	<input type="text"/>	<input type="text"/>
答え	<input type="text"/>	<input type="text"/>

③ $30 - 25 = \square$

	じゅう	いち
	<input type="text"/>	<input type="text"/>
	<input type="text"/>	<input type="text"/>
—	<input type="text"/>	<input type="text"/>
答え	<input type="text"/>	<input type="text"/>



6. ひっさんでけいさんしよう!

がつ にち

⑤1 ひっさんでけいさんをしよう!

① $12 + 7 = \square$ ② $15 + 3 = \square$

③ $14 + 2 = \square$ ④ $27 + 21 = \square$

⑤ $14 + 61 = \square$ ⑥ $45 + 23 = \square$



こんどはじぶんで
ひっさんをかいてみよう!

6. ひっさんでけいさんしよう!

がつ にち

⑤2 ひっさんでけいさんをしよう!

$$\textcircled{1} 12 + 9 = \square \quad \textcircled{4} 15 + 7 = \square$$

$$\textcircled{2} 14 + 8 = \square \quad \textcircled{5} 27 + 29 = \square$$

$$\textcircled{3} 14 + 69 = \square \quad \textcircled{6} 45 + 26 = \square$$

6. ひっさんでけいさんしよう!

がつ にち

⑤③ ひっさんでけいさんをしよう!

$$\textcircled{1} 34 + 9 = \square \quad \textcircled{4} 56 + 7 = \square$$

$$\textcircled{2} 28 + 5 = \square \quad \textcircled{5} 14 + 27 = \square$$

$$\textcircled{3} 28 + 32 = \square \quad \textcircled{6} 35 + 16 = \square$$



6. ひっさんでけいさんしよう!

がつ にち

⑤④ ひっさんでけいさんをしよう!

$$\textcircled{1} 27 + 19 = \square \quad \textcircled{4} 56 + 27 = \square$$

$$\textcircled{2} 32 + 15 = \square \quad \textcircled{5} 21 + 27 = \square$$

$$\textcircled{3} 17 + 33 = \square \quad \textcircled{6} 25 + 15 = \square$$

6. ひっさんでけいさんしよう!

がつ にち

55 ひっさんでけいさんをしよう!

$$\textcircled{1} 30 + 19 = \square \quad \textcircled{4} 40 + 27 = \square$$

$$\textcircled{2} 42 + 18 = \square \quad \textcircled{5} 23 + 27 = \square$$

$$\textcircled{3} 17 + 57 = \square \quad \textcircled{6} 26 + 36 = \square$$



6. ひっさんでけいさんしよう!

がつ にち

⑤⑥ ひっさんでけいさんをしよう!

$$\textcircled{1} 38 - 7 = \square \quad \textcircled{4} 46 - 4 = \square$$

$$\textcircled{2} 45 - 3 = \square \quad \textcircled{5} 18 - 7 = \square$$

$$\textcircled{3} 17 - 7 = \square \quad \textcircled{6} 26 - 6 = \square$$

6. ひっさんでけいさんしよう!

がつ にち

⑤7 ひっさんでけいさんをしよう!

$$\textcircled{1} 35 - 7 = \square \quad \textcircled{4} 46 - 8 = \square$$

$$\textcircled{2} 14 - 6 = \square \quad \textcircled{5} 13 - 7 = \square$$

$$\textcircled{3} 17 - 9 = \square \quad \textcircled{6} 26 - 18 = \square$$

6. ひっさんでけいさんしよう!

がつ にち

⑤⑧ ひっさんでけいさんをしよう!

① $84 - 27 = \square$ ④ $55 - 29 = \square$

② $32 - 17 = \square$ ⑤ $43 - 17 = \square$

③ $25 - 19 = \square$ ⑥ $71 - 28 = \square$



6. ひっさんでけいさんしよう!

がつ にち

⑤⑨ ひっさんでけいさんをしよう!

$$\textcircled{1} 25 - 17 = \square \quad \textcircled{4} 55 + 29 = \square$$


$$\textcircled{2} 32 - 21 = \square \quad \textcircled{5} 33 + 18 = \square$$

$$\textcircled{3} 34 - 17 = \square \quad \textcircled{6} 61 + 28 = \square$$

60 しきをつかってひっさんでけいさんしよう!



りんごが 59こ ありました。



ケッシーが 28こ たべちゃいました。

もんだい

のこった りんごは なんこかな?

しき


	じゅう	いち
	<input type="text"/>	<input type="text"/>
—	<input type="text"/>	<input type="text"/>
こたえ	<input type="text"/>	<input type="text"/>

こたえ こ

61 しきをつかってひっさんでけいさんしよう！



りんごが 82こ ありました。



もう 食べられないよ



ケッシーが 53こ たべちゃいました。

もんだい

のこった りんごは なんこかな？

しき

Blank box for writing the unit (shiki).

	じゅう	いち
	<input type="text"/>	<input type="text"/>
	<input type="text"/>	<input type="text"/>
—	<input type="text"/>	<input type="text"/>
こたえ	<input type="text"/>	<input type="text"/>

こたえ こ

62 しきをつかってひっさんでけいさんしよう!



えきに サラリーマンが 15にん いました。



あとから サラリーマンが 23にん きました。

もんだい

サラリーマンは ぜんぶで なんにん になったかな?

しき

	じゅう	いち
	<input style="width: 40px; height: 40px;" type="text"/>	<input style="width: 40px; height: 40px;" type="text"/>
+	<input style="width: 40px; height: 40px;" type="text"/>	<input style="width: 40px; height: 40px;" type="text"/>
<hr style="border: 0.5px solid black;"/>		
こたえ	<input style="width: 40px; height: 40px;" type="text"/>	<input style="width: 40px; height: 40px;" type="text"/>

こたえ にん

63 しきをつかってひっさんでけいさんしよう！



えきに サラリーマンが 45にん いました。



あとから サラリーマンが 28にん きました。

もんだい

サラリーマンは ぜんぶで なんにん になったかな？

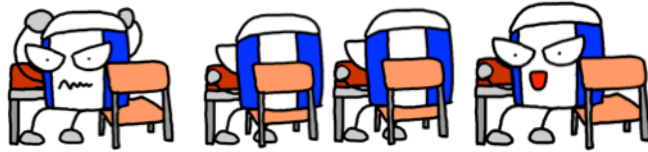
しき

	じゅう	いち
	<input style="width: 40px; height: 40px;" type="text"/>	<input style="width: 40px; height: 40px;" type="text"/>
+	<input style="width: 40px; height: 40px;" type="text"/>	<input style="width: 40px; height: 40px;" type="text"/>
こたえ	<input style="width: 40px; height: 40px;" type="text"/>	<input style="width: 40px; height: 40px;" type="text"/>

こたえ にん

64 しきをつかってひっさんでけいさんしよう！

べんきょうするぞ！




きょうしつにせいとが15にんいます。

べんきょう！

べんきょう！

あそびたいなあ。



あとからせいとが56にんきました。

もんだい

せいとはぜんぶでなんにんになったかな？

しき

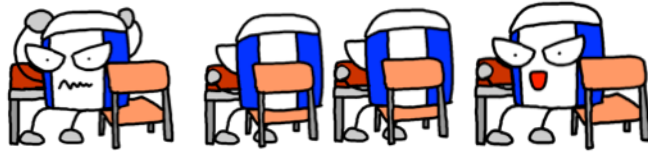
	じゅう	いち
	<input style="width: 80%; height: 40%;" type="text"/>	<input style="width: 80%; height: 40%;" type="text"/>
+	<input style="width: 80%; height: 40%;" type="text"/>	<input style="width: 80%; height: 40%;" type="text"/>
	<input style="width: 80%; height: 40%;" type="text"/>	<input style="width: 80%; height: 40%;" type="text"/>
こたえ		

こたえ

にん

65 しきをつかってひっさんでけいさんしよう！

べんきょうするぞ！




きょうしつにせいとが8にんいます。

べんきょう！

べんきょう！

あそびたいなあ。



あとからせいとが75にんきました。

もんだい

せいとはぜんぶでなんにんになったかな？

しき

	じゅう	いち
+	<input type="text"/>	<input type="text"/>
	<input type="text"/>	<input type="text"/>
こたえ	<input type="text"/>	<input type="text"/>


こたえ

にん

66 しきをつかってひっさんでけいさんしよう!



カッキーが95えんもって
おかいものにいったよ。



26えんのバナナをかったよ。

もんだい
おつりはいくらかな?

しき

	じゅう	いち
	<input type="text"/>	<input type="text"/>
—	<input type="text"/>	<input type="text"/>
こたえ	<input type="text"/>	<input type="text"/>

こたえ


えん

67 しきをつかってひっさんでけいさんしよう!

おかいものだ!



ケッシーが 38えん もって
おかいものに いったよ。



やすいよ! やすいよ!



29えんの アイスを かったよ。

もんだい

おつりは いくらかな?

しき

	じゅう	いち
	<input type="text"/>	<input type="text"/>
—	<input type="text"/>	<input type="text"/>
こたえ	<input type="text"/>	<input type="text"/>

こたえ


えん

68 しきをつくってひっさんでけいさんしよう!

わーい!




ケッシーはおこづかいが
45えんあるよ。



わーい!



カッキーはおこづかいが
38えんあるよ。



もんだい
ふたりあわせていくらかな?

しき

	じゅう	いち
+	<input style="width: 100%; height: 100%;" type="text"/>	<input style="width: 100%; height: 100%;" type="text"/>
—	<input style="width: 100%; height: 100%;" type="text"/>	<input style="width: 100%; height: 100%;" type="text"/>
こたえ	<input style="width: 100%; height: 100%;" type="text"/>	<input style="width: 100%; height: 100%;" type="text"/>

こたえ


えん

69 しきをつかってひっさんでけいさんしよう!


つかいすぎた!




ケッシーはおこづかいが
18えんあるよ。



わーい!



カッキーはおこづかいが
76えんあるよ。



もんだい
ふたりあわせていくらかな?

しき

	じゅう	いち
+	<input style="width: 100%; height: 100%;" type="text"/>	<input style="width: 100%; height: 100%;" type="text"/>
—	<input style="width: 100%; height: 100%;" type="text"/>	<input style="width: 100%; height: 100%;" type="text"/>
こたえ	<input style="width: 100%; height: 100%;" type="text"/>	<input style="width: 100%; height: 100%;" type="text"/>

こたえ

えん

6. ひっさんでけいさんしよう!

がつ にち

70 しきをつかってひっさんでけいさんしよう!

きみがもっている えんぴつは なんぼん?

ほん

きみがもっている けしごむは なんこ?

こ

もんだい
あわせていくつかな?

しき

かすがおおきくなったら
ひっさんをするんだ!



こたえ

こ

6. ひっさんでけいさんしよう!

がつ にち

71 しきをつくってひっさんでけいさんしよう!

きみがもっている えほんは なんさつ?

さつ

きみがもっている ノートは なんさつ?

さつ

もんだい

あわせていくつかな?

しき

こたえ

さつ

6. ひっさんでけいさんしよう！

がつ にち

72 しきをつかってひっさんでけいさんしよう！

きみの いえの げんかんから だいどころまで
なんぽで いける？


 ほ

だいどころから おふるまでは
なんぽでいける？

 ほ

もんだい
あわせて いくつかな？

しき



こたえ ほ

6. ひっさんでけいさんしよう！

がつ にち

73 しきをつかってひっさんでけいさんしよう！

きみはおにくをなんかいかんでのみこむ？

かい

きみはごはんをなんかいかんでのみこむ？

かい

もんだい

あわせてなんかいかな？

しき

よくかんでたべよう！



こたえ

かい

6. ひっさんでけいさんしよう！



① ~ ⑥ の答え合わせをしよう！



① ① 10が「1」、1が「2」

② 10が「1」、1が「4」

② ① 10が「1」、1が「5」

② 10が「1」、1が「3」

③ 10が「1」、1が「7」

④ 10が「1」、1が「1」

③ ① 10が「1」、1が「6」

② 10が「1」、1が「8」

③ 10が「1」、1が「5」

④ 10が「1」、1が「9」

④ ① 10が「1」、1が「2」

② 10が「1」、1が「5」

③ 10が「1」、1が「3」

④ 10が「1」、1が「7」

⑤ 10が「1」、1が「9」

⑥ 10が「1」、1が「1」

⑦ 10が「1」、1が「6」

⑧ 10が「1」、1が「4」

⑤ ① 10が「2」、1が「5」

② 10が「2」、1が「4」

③ 10が「2」、1が「1」

④ 10が「2」、1が「8」

⑤ 10が「2」、1が「9」

⑥ 10が「2」、1が「6」

⑦ 10が「2」、1が「3」

⑧ 10が「2」、1が「7」

⑥ ① 10が「3」、1が「8」

② 10が「3」、1が「4」

③ 10が「3」、1が「1」

④ 10が「3」、1が「8」

⑤ 10が「3」、1が「7」

⑥ 10が「3」、1が「2」

⑦ 10が「3」、1が「6」

⑧ 10が「3」、1が「3」

6. ひっさんでけいさんしよう!



7 ~ 11 の答え合わせをしよう!



- 7
- ① 10が「4」、1が「2」
 - ② 10が「4」、1が「9」
 - ③ 10が「4」、1が「4」
 - ④ 10が「4」、1が「8」
 - ⑤ 10が「4」、1が「1」
 - ⑥ 10が「4」、1が「5」
 - ⑦ 10が「4」、1が「7」
 - ⑧ 10が「4」、1が「3」

- 8
- ① 10が「5」、1が「5」
 - ② 10が「5」、1が「7」
 - ③ 10が「5」、1が「1」
 - ④ 10が「5」、1が「9」
 - ⑤ 10が「5」、1が「2」
 - ⑥ 10が「5」、1が「6」
 - ⑦ 10が「5」、1が「3」
 - ⑧ 10が「5」、1が「8」

- 9
- ① 10が「6」、1が「7」
 - ② 10が「6」、1が「0」
 - ③ 10が「6」、1が「2」
 - ④ 10が「6」、1が「3」

- ⑤ 10が「6」、1が「4」
- ⑥ 10が「6」、1が「1」
- ⑦ 10が「6」、1が「5」
- ⑧ 10が「6」、1が「9」

- 10
- ① 10が「7」、1が「7」
 - ② 10が「7」、1が「1」
 - ③ 10が「7」、1が「6」
 - ④ 10が「7」、1が「2」
 - ⑤ 10が「7」、1が「5」
 - ⑥ 10が「7」、1が「9」
 - ⑦ 10が「7」、1が「4」
 - ⑧ 10が「7」、1が「3」

- 11
- ① 10が「8」、1が「5」
 - ② 10が「8」、1が「8」
 - ③ 10が「8」、1が「0」
 - ④ 10が「8」、1が「1」
 - ⑤ 10が「8」、1が「6」
 - ⑥ 10が「8」、1が「9」
 - ⑦ 10が「8」、1が「2」
 - ⑧ 10が「8」、1が「4」

6. ひっさんでけいさんしよう!



12 ~ 16 の答え合わせをしよう!



12 ① 10が「9」、1が「1」

② 10が「9」、1が「9」

③ 10が「9」、1が「3」

④ 10が「9」、1が「6」

⑤ 10が「9」、1が「5」

⑥ 10が「9」、1が「0」

⑦ 10が「9」、1が「7」

⑧ 10が「9」、1が「4」

13 ① 10が「1」、1が「4」

② 10が「2」、1が「8」

③ 10が「3」、1が「5」

④ 10が「4」、1が「7」

⑤ 10が「5」、1が「6」

⑥ 10が「6」、1が「1」

⑦ 10が「7」、1が「0」

⑧ 10が「8」、1が「9」

14 ① 10が「3」、1が「8」

② 10が「6」、1が「1」

③ 10が「8」、1が「2」

④ 10が「7」、1が「6」

⑤ 10が「4」、1が「3」

⑥ 10が「9」、1が「4」

⑦ 10が「1」、1が「5」

⑧ 10が「5」、1が「5」

15 ① 10が「7」、1が「1」

② 10が「9」、1が「9」

③ 10が「5」、1が「2」

④ 10が「6」、1が「7」

⑤ 10が「8」、1が「3」

⑥ 10が「4」、1が「5」

⑦ 10が「3」、1が「0」

⑧ 10が「1」、1が「4」

16 ① 10が「2」、1が「2」

② 10が「7」、1が「1」

③ 10が「9」、1が「3」

④ 10が「4」、1が「8」

⑤ 10が「9」、1が「1」

⑥ 10が「4」、1が「0」

⑦ 10が「6」、1が「5」

⑧ 10が「2」、1が「4」

6. ひっさんでけいさんしよう!



17 ~ 23 の答え合わせをしよう!



- 17
- ① 10が「1」、1が「8」
 - ② 10が「2」、1が「9」
 - ③ 10が「6」、1が「1」
 - ④ 10が「8」、1が「2」
 - ⑤ 10が「7」、1が「6」
 - ⑥ 10が「2」、1が「5」
 - ⑦ 10が「3」、1が「9」
 - ⑧ 10が「5」、1が「0」

- ⑨ 3, 8
- ⑩ 6, 1
- ⑪ 8, 2
- ⑫ 7, 6
- ⑬ 4, 3
- ⑭ 9, 4
- ⑮ 1, 5
- ⑯ 5, 5

自分で「けいさんき」をつくっちゃおう!

- ① 1
- ② 9

- 18
- ① 1, 8
 - ② 2, 9
 - ③ 6, 1
 - ④ 8, 2
 - ⑤ 7, 6
 - ⑥ 2, 5
 - ⑦ 3, 9
 - ⑧ 5, 0
 - ⑨ 2, 2
 - ⑩ 7, 1
 - ⑪ 9, 3
 - ⑫ 4, 8
 - ⑬ 9, 1
 - ⑭ 4, 0
 - ⑮ 6, 5
 - ⑯ 2, 4

- 20
- ① 19
 - ② 18
 - ③ 16

- 21
- ① 29
 - ② 29
 - ③ 35

- 22
- ① 37
 - ② 59
 - ③ 79

- 19
- ① 7, 1
 - ② 9, 9
 - ③ 5, 2
 - ④ 6, 7
 - ⑤ 8, 3
 - ⑥ 4, 5
 - ⑦ 3, 0
 - ⑧ 1, 4

- 23
- ① 66
 - ② 86
 - ③ 75

6. ひっさんでけいさんしよう!



24 ~ 34 の答え合わせをしよう!



- 24 ① 72
② 85
③ 83

- 25 ① 18
② 35
③ 46

- 26 ① 80
② 48
③ 19

ひっさんで「くりあがり」をけいさんしよう!
4

27 41

- 28 ① 41
② 53
③ 22

- 29 ① 52
② 46
③ 45

- 30 ① 61
② 51
③ 24

- 31 ① 33
② 31
③ 34

- 32 ① 42
② 51
③ 44

- 33 ① 84
② 63
③ 61

- 34 ① 56
② 83
③ 71

ひっさんでひきざんをしよう!

- ① 1
② 3

6. ひっさんでけいさんしよう!



35 ~ 46 の答え合わせをしよう!



35 ① 11

② 12

③ 12

36 ① 17

② 12

③ 22

37 ① 34

② 12

③ 34

38 ① 44

② 11

③ 1

39 ① 19

② 10

③ 15

40 ① 70

② 10

③ 11

41 ① 2

② 2

③ 2

ひっさんで「くりさがり」をけいさんしよう!

① 1

② 5

42 15

43 ① 23

② 37

③ 4

44 ① 8

② 26

③ 68

45 ① 8

② 16

③ 14

46 ① 44

② 17

③ 28

6. ひっさんでけいさんしよう!



47 ~ 58 の答え合わせをしよう!



- 47 (1) 28
(2) 19
(3) 28

- 48 (1) 28
(2) 34
(3) 27

- 49 (1) 20
(2) 63
(3) 25

- 50 (1) 49
(2) 25
(3) 5

- 51 (1) 19 (4) 18
(2) 16 (5) 48
(3) 75 (6) 68

- 52 (1) 21 (4) 22
(2) 22 (5) 56
(3) 83 (6) 71

- 53 (1) 43
(2) 33
(3) 60

- 54 (1) 46
(2) 47
(3) 50

- 55 (1) 49
(2) 60
(3) 74

- 56 (1) 31
(2) 42
(3) 10

- 57 (1) 28
(2) 8
(3) 8

- 58 (1) 57
(2) 15
(3) 6

- (4) 63
(5) 41
(6) 51

- (4) 83
(5) 48
(6) 40

- (4) 67
(5) 50
(6) 62

- (4) 42
(5) 11
(6) 20

- (4) 38
(5) 6
(6) 8

- (4) 26
(5) 26
(6) 43

6. ひっさんでけいさんしよう!



59 ~ 73 の答合わせをしよう!

- 59 ① 8 ④ 84
 ② 11 ⑤ 51
 ③ 17 ⑥ 89

73 おうちのひとにきいてね

60 式 $59 - 28 = 31$ 答 31

61 式 $82 - 53 = 29$ 答 29

62 式 $15 + 23 = 38$ 答 38

63 式 $45 + 28 = 73$ 答 73

64 式 $15 + 56 = 71$ 答 71

65 式 $8 + 75 = 83$ 答 83

66 式 $95 - 26 = 69$ 答 69

67 式 $38 - 29 = 9$ 答 9

68 式 $45 + 38 = 83$ 答 83

69 式 $18 + 76 = 94$ 答 94

70 おうちのひとにきいてね

71 おうちのひとにきいてね

72 おうちのひとにきいてね

