




8. 仕事を計算しよう！

がつ にち




⑪ つぎ ぶん よ しぎ た こたえ だ
 次の文を読んで、式を立てて答を出そう！

① ある仕事を するのに、カッキーは12日、ケッシーは6日、
 中村先生は4日 かかるよ。3人で 一緒に仕事をしたら
 何日で 終わるかな？

	カッキーの 1日分の 仕事は	<input type="text"/>) 3人の ごうけい 合計は	<input type="text"/>	×	<input type="text"/>	日 = ①
	ケッシーの 1日分の 仕事は	<input type="text"/>					
	中村先生の 1日分の 仕事は	<input type="text"/>					

答え

② ある仕事を するのに、カッキーは10日、ケッシーは12日、
 中村先生は15日 かかるよ。3人で 一緒に仕事をしたら
 何日で 終わるかな？

	カッキーの 1日分の 仕事は	<input type="text"/>) 3人の ごうけい 合計は	<input type="text"/>	×	<input type="text"/>	日 = ①
	ケッシーの 1日分の 仕事は	<input type="text"/>					
	中村先生の 1日分の 仕事は	<input type="text"/>					

答え