


8. 仕事を計算しよう！


がつ にち

23 つぎ ぶん よ しぎ た こたえ だ
次の文を読んで、式を立てて答を出そう！

1 お掃除ロボットが 3台で 5時間かけて きれいになる
部屋があるよ。この部屋を 同じロボット 5台で
掃除したら 何時間 かかるかな？



3台 × 5時間 = 15の仕事




5台 × 時間 = 15の仕事

答え

2 お掃除ロボットが 5台で 4時間かけて きれいになる
部屋があるよ。この部屋を 同じロボット 10台で
掃除したら 何時間 かかるかな？



5台 × 4時間 = 20の仕事



10台 × 時間 = 20の仕事

答え