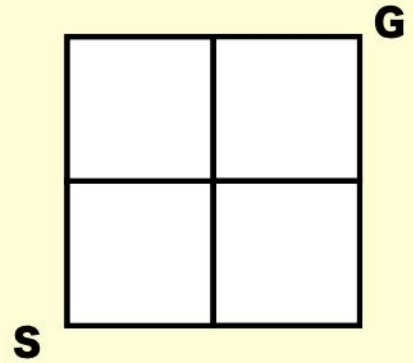
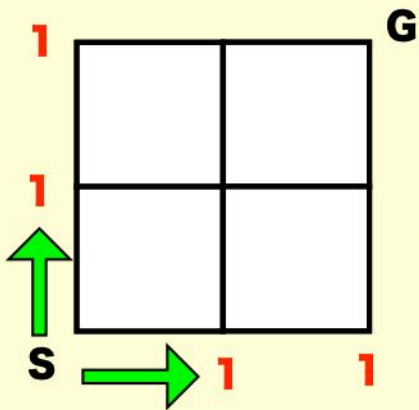


道順は 何通り？

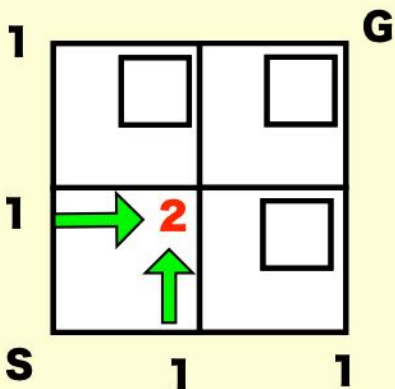
れい S地点から G地点まで 遠回りしないで 行く
 道順は 何通り あるかな？



道順の問題は
 交差点までの 足し算で 考えよう！



直線の 交差点まで 行く道は 1通りだけ！
 → 交差点に「1」って書こう！



交差点が ぶつかる所は 道順の 合計だよ！
 → 交差点に「足し算の答え」を書こう！

答え 通り